



Thứ..... ngày tháng 11 năm 2016

KIỂM TRA ĐỊNH KÌ MÔN TOÁN LỚP 4


GIỮA KÌ I - NĂM HỌC 2016 - 2017

(Thời gian: 40 phút)

Lớp: 4.....

Họ tên:

Điểm	Lời nhận xét của cô giáo



PHẦN I: TRẮC NGHIỆM (4 điểm):

Khoanh vào chữ cái trước câu trả lời đúng

Câu 1: Số “Ba triệu không trăm hai mươi lăm nghìn sáu trăm bảy mươi tư” viết là:

- A. 300 025 674 B. 3 025 674 C. 30 025 674 D. 325 674

Câu 2: Số bé nhất trong các số 8676; 8677; 8867; 8876 là:

- A. 8676 B. 8677 C. 8867 D. 8876

Câu 3: Trong các số 2 678 387, giá trị của chữ số 6 là:

- A. 6 000 000 B. 60 000 C. 600 000 D. 6000

Câu 4: Thứ tư này là ngày 26 tháng 4. Thứ tư tới là ngày:

- A. 1 tháng 5 B. 2 tháng 5 C. 3 tháng 5 D. 4 tháng 5

Câu 5: Trung bình cộng của các số 42; 60 và 36 là:

- A. 46 B. 96 C. 138 D. 102

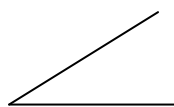
Câu 6: 62 tấn 45kg =kg là :

- A. 6245 B. 60245 C. 62045 D. 62450

Câu 7: Trung bình cộng của hai số là 145. Số lớn hơn số thứ số bé là 20. Số bé là:

- A. 140 B. 155 C. 135 D. 150

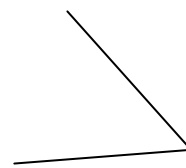
Câu 8: Hình nào dưới đây là góc tù ?



Hình 1



Hình 2



Hình 3



Hình 4

A. Hình 1

B. Hình 2

C. Hình 3

D. Hình 4

PHẦN II: TỰ LUẬN (6 điểm)

Câu 1 (2 điểm) : Đặt tính rồi tính

$78\ 362 + 1452$

$987\ 864 - 74\ 325$

1350×6

$7566 : 5$

Câu 2 (1 điểm): Điền số thích hợp vào chỗ chấm

$5 \text{ tạ} = \dots \text{ kg}$

$750 \text{ kg} = \dots \text{ yến}$

$\frac{1}{2} \text{ ngày} = \dots \text{ giờ}$

$200 \text{ năm} = \dots \text{ thế kỉ}$

Câu 3 (3 điểm): Một hình chữ nhật có chu vi bằng 52m. Tính diện tích hình chữ nhật đó biết rằng chiều rộng kém chiều dài 8 m.

Bài giải

Ý KIẾN CỦA CHA MẸ HỌC SINH
(Kí và ghi rõ họ tên)